

2024年

第57回

世界旅行地理検定試験

上級問題

©試験問題の数値、所在地、地形などの成因、年代、地名の表記、説明の記述にあたり原則として参照した資料は次のとおりです。

「理科年表」国立天文台編、各国政府観光局等のホームページ、「世界遺産年報」日本ユネスコ協会連盟編、各種地理教科書・学校教科書用地図帳、JTB 旅行図書・時刻表



旅行地理検定協会

Travel Geography Testing Association

1 地勢・自然景観に関する問題 (20問)

1. 次の組合せのうち、誤っているものを記号で選びなさい。

(1) 山とそのピークが所在する国。

- a. アコンカグア山 = アルゼンチン b. エルブルス山 = ロシア
c. キリマンジャロ = ケニア d. ハレアカラ山 = アメリカ

(2) 川と流域都市。

- a. 黄河 = 重慶 b. エーヤワディー川 = バガン (パガン)
c. メコン川 = プノンペン d. チャオプラヤー川 = アユタヤ

(3) 湖と湖畔に接する都市。

- a. オンタリオ湖 = トロント b. ブリエンツ湖 = インターラーケン
c. マッジョーレ湖 = ロカルノ d. レマン湖 = チューリヒ

(4) 自然景観と所在する国。

- a. デスバレー = アメリカ b. タクラマカン砂漠 = モンゴル
c. ネフド砂漠 = サウジアラビア d. ナラボー平原 = オーストラリア

(5) 島と所在する国。

- a. カナリア諸島 = スペイン b. キクラデス諸島 = トルコ
c. フェロー諸島 = デンマーク d. シェトランド諸島 = イギリス

2. 次の説明文にあてはまる地名等を、記号で選びなさい。

(6) マレー半島北西岸、アンダマン海に浮かぶ島で、マレーシア有数の海岸保養地。島内には石灰岩地域に見られる鍾乳洞や、隕石の衝突でできたと思われる地形があり、2007年に東南アジア初の世界ジオパークに認定された。

- a. ティオマン島 b. パンコール島 c. ペナン島 d. ランカウイ島

(7) 大西洋に沿ってアフリカ大陸の西岸にあり、南北約1,300kmに及ぶ南北に長い臨海砂漠。約7,000万年～1億年前に誕生した、世界最古の砂漠と考えられている。

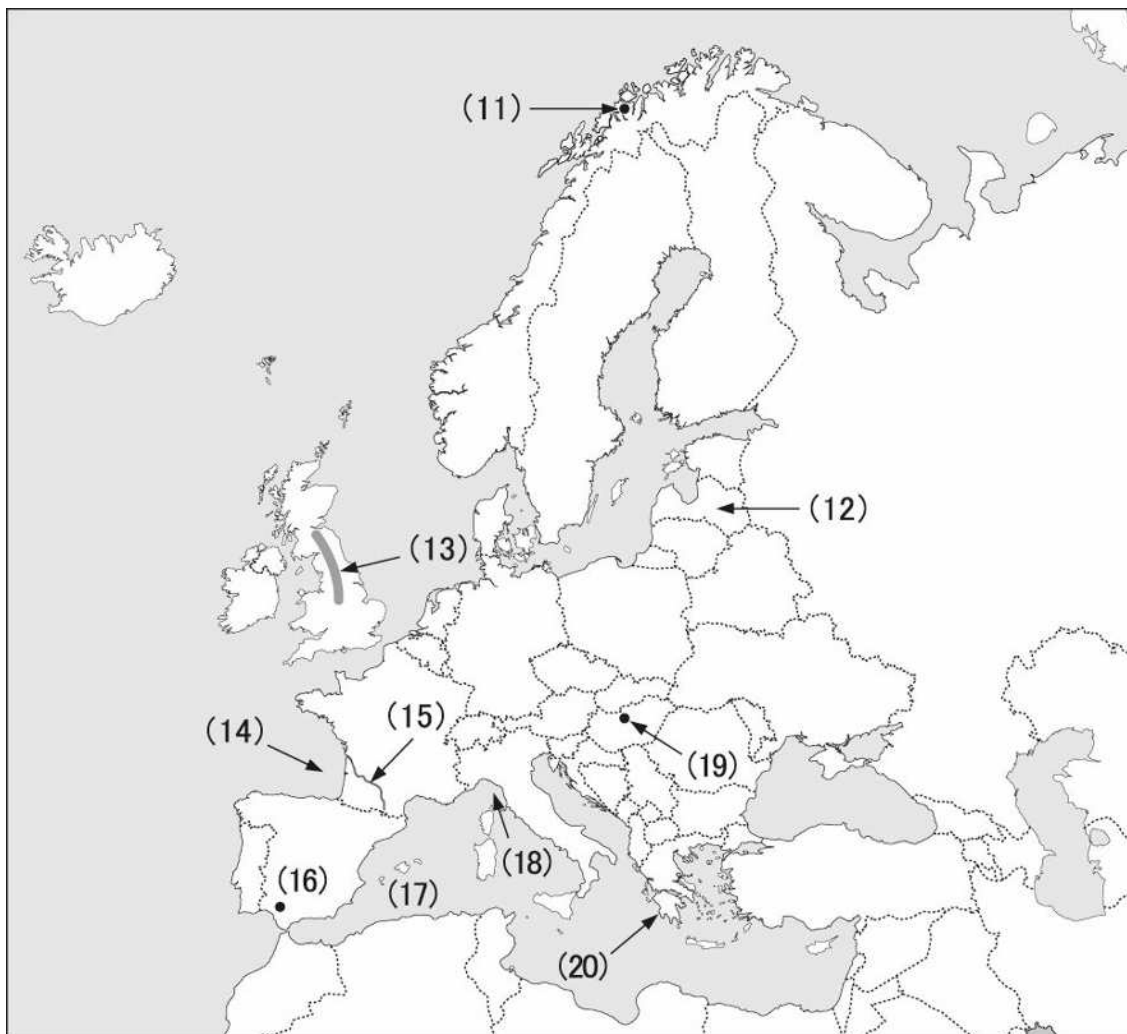
- a. カラハリ砂漠 b. ナミブ砂漠
c. スビア砂漠 d. ルブアルハリ砂漠

(8) ドイツ南部の山地に源を發し、ヨーロッパ10ヶ国以上を流れて黒海に注ぐ、本流の長さ2,850kmの、ヨーロッパ第2の国際河川。

- a. ヴォルガ川 b. ドナウ川
c. ドニプロ (ドニエプル) 川 d. ライン川

- (9) 南太平洋のポリネシア西部の諸島で、フランス領ポリネシアの主島タヒチ島などの火山性及び珊瑚礁の島々から成る。
 a. カロリン諸島 b. ソシエテ諸島 c. ソロモン諸島 d. ロワイヨテ諸島
- (10) ニュージーランド南島にある、明るく輝くコバルト・ブルーの湖面で有名な湖。湖畔には石造りの「善き羊飼いの教会」が立ち、11～12月には紫やピンクのルピナスの花が咲き乱れる。近辺は、ユネスコの国際ダークスカイ・リザーブに認定された、世界的な星空観察スポットとして有名。
 a. タウポ湖 b. テ・アナウ湖 c. テカポ湖 d. ワナカ湖

3. ヨーロッパの地図上の (11) ～ (20) にあてはまる地名等を、記号で選びなさい。



- (11) a. トロムセ (トロムソ) b. トロンハイム
 c. ベルゲン d. ロヴァニエミ
- (12) a. スロヴェニア b. ベラルーシ c. ラトビア d. リトアニア
- (13) a. アペニン山脈 b. ピレネー山脈 c. ペニン山脈 d. カンブリア山脈

- (14) a. サンマロ湾 b. ビスケー湾 c. ボスニア湾 d. リオン湾
- (15) a. ガロンヌ川 b. テージョ川
c. ローヌ川 d. ロワール（ロアール）川
- (16) a. セゴビア b. セビーヤ（セビリア）
c. タラゴナ d. バレンシア
- (17) a. アゾレス諸島 b. キクラデス諸島 c. マデイラ諸島 d. バレアレス諸島
- (18) a. アドリア海 b. イオニア海 c. ティレニア海 d. リグリア海
- (19) a. キーウ（キエフ） b. ブダペスト
c. プラハ d. ベオグラード
- (20) a. コタンタン半島 b. コーンウォール（コーンワル）半島
c. サレンティーナ（サレント）半島 d. ペロポネソス半島

2 世界遺産に関する問題（10問）

1. 次の説明文にあてはまる世界遺産を、記号で選びなさい。

- (21) インドのムンバイ湾内の島にあるヒンドゥー教の石窟寺院群で、ヒンドゥー教の最高神の一人であるシヴァ神を祀っている。約40m四方の大広間を持つ、第1窟奥室中央の三面上半身のシヴァ神像は、6～8世紀頃に造られたとされるヒンドゥー教彫刻の傑作として評価されている。
- a. アジャンター石窟群 b. エレファンタ石窟群
c. エローラ石窟群 d. カンヘーリー石窟群
- (22) スペイン中部の高原にある、かつてカスティーリャ王国の首都として栄えた古都。ディズニー映画「白雪姫」のモデルとなった美しい王城アルカサルや、高さ28mもある古代ローマ時代に造られた水道橋などの、歴史的建造物が多く残されている。
- a. 古都トレド b. コルドバ歴史地区
c. サラマンカ旧市街 d. セゴビア旧市街
- (23) イタリア中部トスカーナ地方にある中世の都市国家で、200年かけて市民が建てた大聖堂や、ゴシック建築の宮殿などが残されている。また、町の中心にある「世界一美しい広場」と言われる扇形のカンポ広場では、年2回裸馬レースで有名な祭り「パリオ・デレ・コントラーデ」が開かれる。
- a. ウルビーノ歴史地区 b. サン・ジミニャーノ歴史地区
c. シエナ歴史地区 d. フィレンツェ歴史地区

- (30) a. 開平楼閣と村落
b. 鼓浪嶼：歴史的共同租界
c. 左江花山の岩絵の文化的景観
d. 泉州：宋元中国の世界海洋貿易センター

3 観光地・観光ポイントに関する問題（35問）

1. 次の説明にあてはまる都市や島を、記号で選びなさい。

- (31) 李氏朝鮮王朝を開いた李成桂の本貫地（発祥地）として知られる全羅北道の古都で、韓国の伝統建築様式である韓屋（ハノク）の家々が数多く残っている。代表的韓国料理の一つ「ビビンバ」発祥の地としても知られる。
a. 慶州 b. 光州 c. 済州 d. 全州
- (32) インド北西部ラージャスターン州の中央にあるオアシス都市で、旧市街の家屋の壁が青く塗られており、街のシンボル「メヘラーンガル砦」から一望する街の色合いから「ブルーシティ」の愛称がある。
a. ウダイプル b. ジャイプル
c. シュリーナガル（スリナガル） d. ジョードプル
- (33) 古代ローマ時代に、地中海西部の交通の要衝として栄えた港湾都市で、ローマ時代の遺跡に富んでいる。中でも「悪魔の橋」と呼ばれる「ラス・ファレラス水道橋」は、スペインに残る最大級の水道橋として世界遺産にも登録されている。また、9月の「サンタ・テクラ祭り」では、9段にもなる人間の塔「カステジェルス」の実演が見られる。
a. タラゴナ b. バレンシア c. パンプローナ d. マラガ
- (34) エーゲ海に浮かぶ、花崗岩から成る面積3km²の小島。ギリシャ神話の神アポロンとアルテミスの生誕地とされる、古代エーゲ海世界の聖地で、宗教、政治、商業の中心地として繁栄した。紀元前478年に、ペルシャの脅威に備えてアテネを盟主とする軍事同盟がここで結ばれた。
a. クレタ島 b. デロス島
c. ミロス島 d. ロドス（ロードス）島
- (35) キューバの中央部にある都市で、アメリカ大陸を発見したとされる航海家コロンブスによって開かれた、欧州人が最初に入植した古都。英雄チェ・ゲバラの霊廟があり、キューバ革命の聖地となっている。
a. サンタ・クララ b. サンティアゴ・デ・クーバ
c. トリニダー d. ハバナ

2. 次の都市とその近郊には所在しない観光ポイントを、記号で選びなさい。

- (36) 台南
a. 延平郡王祠 b. 孔子廟 c. 赤崁楼 d. 龍虎塔
- (37) デリー
a. クトゥブ・ミナール b. ジャマー・マスジット
c. ファターブル・スィークリー d. フマユーン廟
- (38) エディンバラ
a. ウォリック城 b. セント・アンドリュース・ゴルフコース
c. ホリールードハウス宮殿 d. ロイヤル・マイル
- (39) サンフランシスコ
a. カーメル b. ゴールデンゲート公園
c. ナパバレー d. ロデオドライブ
- (40) リマ
a. 黄金博物館 b. サクサイワマン遺跡
c. サン・フランシスコ教会 d. パチャカマック遺跡

3. 次の説明文の(41)～(50)にあてはまる都市や島を、記号で選びなさい。

- (41) シベリア鉄道の東の終点駅がある(41)は、ロシア語で「東方を征服せよ」を意味し、帝政ロシア極東艦隊の根拠地として開港された町。現在は、日本との航路も開設された(運休中、2024年7月再開予定)東の玄関都市として栄えている。
a. イルクーツク b. ナホトカ c. ハバロフスク d. ウラジオストク
- (42) 江蘇省の長江北岸、世界遺産の「京杭大運河」沿いの水運の要地として隋唐時代に発展した(42)は、奈良の唐招提寺を建立して日本に律宗を伝えた、唐の高僧鑑真和上の故郷である。鑑真が住職を務めていた大明寺には、日中文化交流のシンボルでもある鑑真記念堂が建てられている。
a. 蘇州 b. 南京 c. 無錫 d. 揚州
- (43) スリランカ中央部の山地に位置する、シンハラ王朝最後の都であった(43)は、釈迦の歯を納めたダラダー・マーリガーワ寺(仏歯寺)があることから、同国の仏教徒の重要な巡礼地として賑わっている。
a. キャンディ b. シーギリヤ c. ポロンナルワ d. アヌラーダプラ

4. 次の説明文にあてはまる観光ポイントが市内や近郊にある都市を、記号で選びなさい。

- (51) 「中国南方カルスト」の一つとして、2007年に世界遺産に登録された時に含まれていた雲南省の景勝地で、高さ20～30mの大石柱が350km²の台地に林立する奇観を望むことができる。
- a. 桂林 b. 昆明 c. 重慶 d. 麗江
- (52) オスマントルコ帝国のメフメット2世によって、13年の歳月をかけて建築された宮殿。現在は博物館として公開され、宝物庫には大きな宝石を無数に散りばめた豪華な家具調度、宝飾品、衣装、美術史的に貴重な写本や細密画などが見られる。
- a. アンカラ b. アンタルヤ c. イズミール d. イスタンブール
- (53) ノルウェーの彫刻家グスタフ・ヴィーゲランの、「人生の諸相」をテーマにした老若男女や喜怒哀楽など、人生を構成する様々な要素を表現した総数212点の彫刻作品が展示されている都市公園。
- a. オスロ b. トロンハイム c. ベルゲン d. スタヴァンゲル
- (54) ケーブルカーに乗って約20分で上がることができる海拔700mを超える丘の上に、両手を広げた高さ30mの巨大なキリスト像が立っている。ここからは眼下に「山と海との間のカリオカの景観群」として世界遺産に登録された景観が広がる。
- a. サルバドール b. サンパウロ
c. ブエノスアイレス d. リオデジャネイロ
- (55) 日没後に海岸に上がってくる、島固有のリトル・ペンギンの群れを間近で見ることができる「ペンギン・パレード」で人気のオーストラリアの小島。
- a. アデレード b. パース c. ブリスベン d. メルボルン

5. 次の説明文にあてはまるメキシコの観光ポイントを、記号で選びなさい。

- (56) メキシコシティにある中央広場で、広場の周囲には南北アメリカ大陸で最大規模のメトロポリタン大聖堂、国立宮殿、市庁舎、古代アステカ王国の遺跡（テンプロマヨール）がある。
- a. アルマス広場 b. 五月広場 c. 三文化広場 d. ソカロ広場
- (57) 国際的に有名な海浜リゾートで「太平洋のリヴィエラ」とも呼ばれている。1613年に伊達政宗が派遣した、支倉常長のローマ遣欧使節団が翌年に上陸した地として、日本ではなじみが深い。
- a. アカプルコ b. カンクン c. ティファナ d. ロスカボス
- (58) 古代マヤ文明の都市遺跡で、マヤ文字が残された「碑文の神殿」と呼ばれるピラミッドから、翡翠の仮面と共にパカル王の遺体が発見され、考古学会の大きな話題となった。
- a. ウシュマル遺跡 b. トウルム遺跡 c. パレンケ遺跡 d. カラクムル遺跡

- (59) メキシコ湾に臨む、16世紀にスペイン隊が最初に上陸した所。植民地時代に海賊などから町を守るために築かれた要塞都市で、城壁や防衛施設が残されており、その保存状態の良さや建築水準の高さから、1999年に世界遺産に登録された。
- a. カンペチェ b. グアダハラハラ c. ベラクルス d. メリダ

- (60) 後古典期マヤの最大の遺跡であるチチェン・イツァ遺跡にある、ピラミッドの形をした神殿。四面には各91段の階段があり、最上部に神殿が設置されており、階段+神殿の総数が365となり、全体でマヤ暦の1年を表す仕組みになっていることから「暦のピラミッド」とも呼ばれている。
- a. ククルカンのピラミッド b. 太陽のピラミッド
c. 月のピラミッド d. 魔法使いのピラミッド

6. 次の都市と観光資源との組合せのうち、誤っているものを記号で選びなさい。

- (61) 広場
- a. リスボン = コメルシオ広場 b. ヴェネツィア = サン・マルコ広場
c. ローマ = ポポロ広場 d. マドリード = シンタグマ広場

- (62) 博物館
- a. オスロ = ヴァイキング船博物館
b. コペンハーゲン = アンデルセン博物館
c. ストックホルム = スカンセン野外博物館
d. ニューヨーク = アメリカ自然史博物館

- (63) 歌劇場
- a. サンクトペテルブルク = マリインスキー劇場
b. ナポリ = スカラ座
c. ブエノスアイレス = コロン劇場
d. ロンドン = コヴェント・ガーデン王立歌劇場

- (64) 橋
- a. ハイデルベルク = カール・テオドール橋
b. パリ = アレクサンドル三世橋
c. ブダペスト = マルギット橋
d. ルツェルン = カレル橋

- (65) 海岸・ビーチ
- a. グアム島 = タモン・ビーチ b. バリ島 = クタ・ビーチ
c. プーケット島 = パトン・ビーチ d. マウイ島 = カイルア・ビーチ

4 総合問題（30問）

1. 次の音楽や美術に関する説明文にあてはまるものを、記号で選びなさい。
- (66) フィンランドの民族叙事詩「カレワラ」を基調とした独自のスタイルを確立した、19世紀後半に活躍した作曲家で、帝政ロシアの支配下における民衆の愛国独立運動を描く交響詩「フィンランディア」で世界的に有名になった。
- a. エドヴァルド・グリーグ b. コダーイ・ゾルターン
c. セルゲイ・ラフマニノフ d. ヤン・シベリウス
- (67) 2024年が生誕200年にあたる、中欧ボヘミア生まれの国民的作曲家ベドルジハ・スメタナの代表作「わが祖国」の演奏で開会される音楽祭。
- a. ヴェローナ音楽祭 b. ザルツブルク音楽祭
c. バイロイト音楽祭 d. プラハの春音楽祭
- (68) フランドルの画家で、バロック様式美術の第一人者。代表作には「フランダースの犬」の最後のシーンに登場する祭壇画「キリストの降架」（アントワープのノートルダム大聖堂所蔵）などがある。
- a. ブリュージュ b. ルーベンス c. レンブラント d. ファン・アイク
- (69) パリのオルセー美術館に展示されている絵画作品。
- a. マネ = 「笛を吹く少年」 b. セザンヌ = 「赤いチョッキの少年」
c. モネ = 「印象・日の出」 d. ミレー = 「種をまく人」
- (70) レオナルド・ダ・ヴィンチの作品で、パリのルーヴル美術館に所蔵されているもの。
- a. 「岩窟の聖母」 b. 「白貂（てん）を抱く貴婦人」
c. 「ブノアの聖母」 d. 「リッタの聖母」

第5日 午前：ニュルンベルク市内観光

カイザーブルク城、聖ローレンツ教会、職人広場にご案内します。

昼食はドイツの家庭料理である酢漬け牛肉の煮込み料理（82）をお楽しみください。


午後：ロマンチック街道巡り

城壁に囲まれたカラフルな木骨建築の古びた家並みが残り、「中世の宝石」と呼ばれるロマンチック街道を代表する町（83）や、中世の趣を残すディンケルスビュールなどを巡りながら、フュッセンまでののどかな田園風景をお楽しみください。

フュッセン泊

第6日 午前：ルートヴィヒ2世が17年の歳月をかけて建てた中世風の白亜の城（84）、草原の中に立つ素朴な外観とロココ調の豪華な内装が対照的なヴィース教会にご案内します。

昼食はラーツケラーにてバイエルン料理と南ドイツの生ビールをお楽しみください。

午後：フュッセン  ハイデルベルク（約6時間）


ハイデルベルク泊

第7日 午前：ハイデルベルク市内観光

ハイデルベルク城、学生牢跡、アルテ橋、哲学者の道などにご案内します。

午後：リュースハイム  ザンクトゴア（約1時間40分）

クルーズ船に乗って、ローレライの岩や古城の点在する（85）をゆったりと下ります。

ザンクトゴア  フランクフルト（約1時間45分）

フランクフルト泊

第8日 午前：フランクフルト市内観光

神聖ローマ時代の皇帝の戴冠式が行われた大聖堂、レーマー広場、この町で生まれた文豪（81）の家などにご案内します。

午後：出発まで自由行動

夜：日本航空にてフランクフルト発 →

機中泊

第9日 午後：東京（成田）着

(81) a. グリム b. ゲーテ c. ハイネ d. リルケ

(82) a. アイスバイン b. ザウアーブラーテン
c. ビーフストロガノフ d. ブッフ・ブルギニョン

(83) a. カッセル b. ザバブルク c. ハーメルン d. ローテンブルク

(84) a. シュヴェリーン城 b. ノイシュヴァンシュタイン城
c. ホーエンシュヴァンガウ城 d. ホーエンツォレルン城

(85) a. ヴィスワ川 b. エルベ川 c. ドナウ川 d. ライン川

5. 国と名物・お酒・イベント等との組合せのうち、誤っているものを記号で選びなさい。

(91) 国と名物料理。

- a. アメリカ = ラウラウ b. カナダ = シュラスコ
c. ブラジル = フェイジョアーダ d. メキシコ = タコス

(92) 国とワインの産地。

- a. アメリカ = ナパ・バレー b. オーストラリア = ハンター・バレー
c. チリ = マイポ・バレー d. 南アフリカ = ヤラ・バレー

(93) 伝統工芸品と生産国。

- a. イギリス = ボーンチャイナ b. スペイン = ダマスキナード
c. フランス = バカラ d. ベルギー = セーヴル焼

(94) 祭りと開催国。

- a. イタリア = サン・フェルミン祭
b. スペイン = ラ・トマティーナ (トマト祭り)
c. ドイツ = ヴァルプルギスの夜
d. トルコ = クルバン・バイラム (犠牲祭)

(95) 伝統音楽・舞踊と発祥国。

- a. インド = バロンダンス b. カンボジア = アプサラダンス
c. ブラジル = ボサノバ d. ポルトガル = ファド

5

写真問題（5問）

1. 写真シートを参照して、その世界遺産の所在地を、記号で選びなさい。

= 写真シート参照（次ページ） =

(96) 青雲橋・白雲橋

a. 安東

b. 慶州

c. 西安

d. 蘇州

(97) ワット・プラ・マハタート

a. アユタヤ

b. スコータイ

c. チェンマイ

d. シェムリアップ

(98) アナトリア

a. アッシュール

b. カップドキア

c. パムツカレ

d. メテオラ

(99) マルクト広場

a. ブレーメン

b. ベルリン

c. リューベック

d. フランクフルト

(100) 巨石神殿群

a. キプロス島

b. クレタ島

c. シチリア島

d. マルタ島

写真シート (世界 上級)

(96)



(97)



(98)



(99)



(100)



