

2024年

第57回

# 世界旅行地理検定試験

初級問題

◎試験問題の数値、所在地、地形などの成因、年代、地名の表記、説明の記述にあたり原則として参照した資料は次のとおりです。

「理科年表」国立天文台編、各国政府観光局等のホームページ、「世界遺産年報」日本ユネスコ協会連盟編、各種地理教科書・学校教科書用地図帳、JTB 旅行図書・時刻表

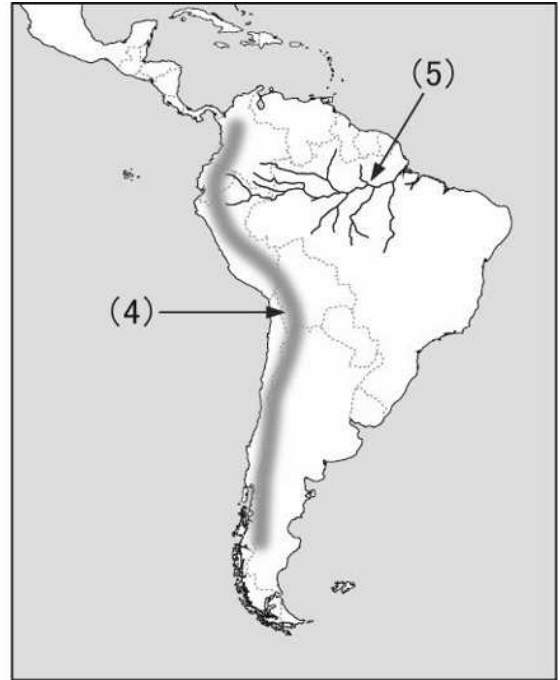
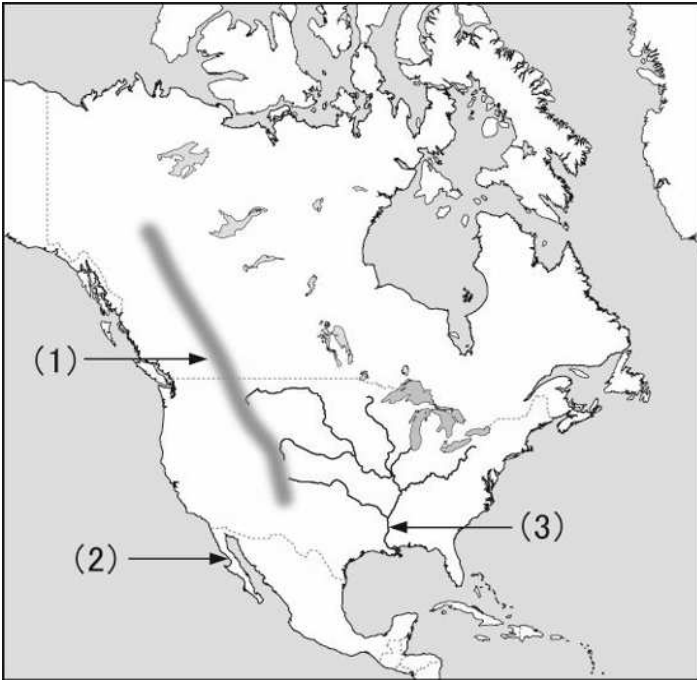


**旅行地理検定協会**

Travel Geography Testing Association

# 1 地勢・自然景観に関する問題（15問）

1. 南北アメリカの地図上の（1）～（5）にあてはまる地名等を、記号で選びなさい。



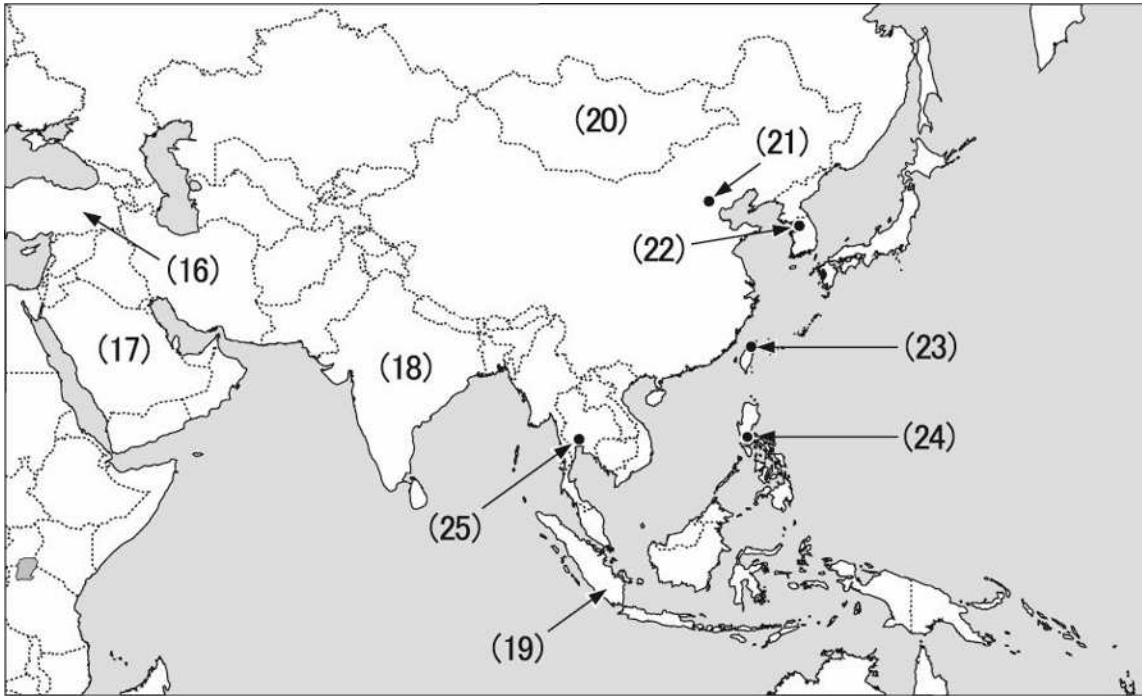
- (1) 北アメリカ大陸の西部をアメリカからカナダにかけて、南北に走る山脈。  
a. アトラス山脈    b. ペニン山脈    c. ロッキー山脈    d. アパラチア山脈
- (2) 北アメリカ大陸の太平洋岸、メキシコ北西部にある半島。  
a. アラスカ半島    b. カリフォルニア半島  
c. フロリダ半島    d. ユカタン半島
- (3) アメリカ合衆国の中央を流れ、メキシコ湾に注ぐ川。河口付近にニューオリンズがある。  
a. コロラド川    b. セント・ローレンス川  
c. ミシシッピ川    d. ユーコン川
- (4) 南アメリカ大陸の太平洋岸に沿って、南北に走る世界最長の山脈。  
a. アルタイ山脈    b. アンデス山脈  
c. シエラネバダ山脈    d. ピレネー山脈
- (5) 太平洋岸の山脈に発し、大西洋に注ぐ川。中流に河港都市マナウスがある。  
a. アマゾン川    b. オリノコ川    c. テージョ川    d. ラ・プラタ川



- (14) a. エーゲ海                      b. タスマン海                      c. バルト海                      d. ベーリング海
- (15) a. 紅海                              b. 黄海                              c. 黒海                              d. 白海

## 2 国と都市に関する問題（10問）

1. アジアの地図上の（16）～（25）にあてはまる国または都市を、記号で選びなさい。



- (16) a. アゼルバイジャン                      b. ジョージア（グルジア）  
c. トルコ                                      d. レバノン
- (17) a. イエメン                              b. イラン                              c. クウェート                      d. サウジアラビア
- (18) a. インド                                      b. パキスタン                      c. ミャンマー                      d. アフガニスタン
- (19) a. インドネシア                              b. カンボジア                      c. マレーシア                      d. バングラデシュ
- (20) a. カザフスタン                              b. トルクメニスタン                      c. モンゴル                      d. ウズベキスタン
- (21) a. 上海                                      b. 西安                                      c. 南京                                      d. 北京
- (22) a. 慶州                                      b. ソウル                                      c. 釜山                                      d. 扶余
- (23) a. 台東                                      b. 台南                                      c. 台北                                      d. 高雄
- (24) a. セブ                                      b. ダバオ                                      c. マニラ                                      d. レガスピ

- (25) a. チェンマイ      b. ハノイ      c. バンコク      d. ヤンゴン

### 3 世界遺産・観光地・観光ポイントに関する問題（50問）

1. 次の世界遺産の保有国を、説明文も参照して、記号で選びなさい。

- (26) 「万里の長城」  
地上最大の建造物。遼寧省の虎山から甘肅省の嘉峪関まで続いている。  
a. インド      b. 韓国      c. 中国      d. モンゴル
- (27) 「タージ・マハル」  
ムガル帝国皇帝が愛妃の死を悼んで造営した、大理石造りの霊廟がある。  
a. インド      b. インドネシア      c. タイ      d. ブータン
- (28) 「トロイの考古遺跡」  
ホメロスの叙事詩「イーリアス」で知られ、シュリーマンが発掘した遺跡がある。  
a. イラン      b. エチオピア      c. ギリシャ      d. トルコ
- (29) 「アブ・シンベルからフィラエまでのヌビア遺跡群」  
アスワン・ハイダム建設に伴う水没を避けるために、神殿移転をしたことが有名で、ユネスコの世界遺産条約発足の契機となった。  
a. イラク      b. エジプト      c. トルコ      d. リビア
- (30) 「ストーンヘンジ、エーヴベリーと関連する遺跡群」  
ソールズベリー郊外の草原にある巨石遺跡で、両者は約30km離れている。  
a. アイルランド      b. イギリス      c. スウェーデン      d. フランス
- (31) 「シュリー・シュル・ロワールとシャロンヌ間のロワール（ロアール）渓谷」  
ロワール川流域にはアンボワーズ城、シャンボール城など美しい城館が点在する。  
a. イタリア      b. ドイツ      c. ハンガリー      d. フランス
- (32) 「ポンペイ、ヘルクラネウム及びトッレ・アンヌンツィアータの遺跡地域」  
紀元79年にヴェスビオ火山の噴火によって埋まった、古代都市遺跡がある。  
a. アイスランド      b. イタリア      c. インドネシア      d. トルコ
- (33) 「オリンピアの考古遺跡」  
古代オリンピック開催の地として知られ、ゼウス神殿やヘラ神殿がある。  
a. 北マケドニア      b. ギリシャ      c. スペイン      d. トルコ
- (34) 「イエローストーン国立公園」  
ワイオミング、アイダホ、モンタナの3州にまたがる、世界最初の国立公園がある。  
a. アメリカ      b. オーストラリア  
c. カナダ      d. ニュージーランド

- (35) 「古代都市テオティワカン」  
太陽のピラミッド、月のピラミッド、死者の大通りで知られる、巨大な都市遺跡がある。  
a. エクアドル      b. グアテマラ      c. ペルー      d. メキシコ

2. 次の観光スポットがある国や都市、島を、記号で選びなさい。

- (36) 「韓国のハワイ」と呼ばれるリゾート・アイランドで、城山日出峰（ソンサンイルチュルボン）、万丈窟（マンジャングル）などがある。  
a. 鬱陵島（ウルルンド）      b. 巨済島（コジェド）  
c. 済州島（チェジュド）      d. 珍島（チンド）
- (37) 水墨画さながらの風景が展開する漓江（りこう）下りの出発点の都市で、石灰岩の奇峰に囲まれた台地上に位置する。  
a. 桂林      b. 昆明      c. 蘇州      d. 武漢
- (38) ジャワ島の北西部にある都市で、ムルデカ広場、旧バタビア地区がある。  
a. クアラルンプール      b. ジャカルタ  
c. シンガポール      d. デンパサール
- (39) アフリカの最高峰、ヘミングウェイの小説で知られる「キリマンジャロ」がある。  
a. ケニア      b. ザンビア      c. タンザニア      d. 南アフリカ
- (40) スコットランドの中心都市で、ホリールードハウス宮殿やキャッスル・ロックがある。  
a. エディンバラ      b. グラスゴー      c. シドニー      d. ブライトン
- (41) 統一ドイツの象徴のブランデンブルク門、世界遺産に登録された「博物館島」がある。  
a. ウィーン      b. プラハ      c. ベルリン      d. フランクフルト
- (42) この国のイスラム支配の最後の砦となった、アルハンブラ宮殿がある。  
a. ヴェネツィア      b. グラナダ      c. コルドバ      d. マドリッド
- (43) 映画を素材にしたテーマパーク「ユニバーサル・スタジオ・ハリウッド」がある。  
a. サンフランシスコ      b. ニューヨーク  
c. ボストン      d. ロサンゼルス
- (44) ブラジル第2の都市で、カーニバルとサンバで知られ、コルコバードの丘がある。  
a. サンパウロ      b. プエノスアイレス  
c. ブラジリア      d. リオデジャネイロ
- (45) ハワイ王朝時代のイオラニ宮殿や、ワイキキ・ビーチ、ポリネシア文化センターがある。  
a. オアフ島      b. カウアイ島      c. ハワイ島      d. マウイ島



- (55) ワシントンD.C.にある「スミソニアン博物館群」の一つで、ライト兄弟の複葉機から、アポロ司令船、月着陸船、月の石、スペースシャトルまで、航空宇宙技術の進歩を展示する。
- a. アメリカ自然史博物館                      b. 国立航空宇宙博物館  
c. 国立自然史博物館                          d. ナショナルギャラリー

5. 次の広場・公園がある都市や島を、記号で選びなさい。

- (56) 「天安門広場」周辺には、故宮博物院、人民大会堂、中国国家博物館などがある。
- a. 上海                      b. 西安                      c. 高雄                      d. 北京
- (57) 「赤の広場」の周辺には、クレムリン、ポクロフスキー聖堂（ワシリー寺院）、グム百貨店等がある。
- a. ブダペスト              b. プラハ                      c. モスクワ                  d. ワルシャワ
- (58) 「トラファルガー広場」には、フランス・スペイン連合艦隊を破り、ナポレオンのイギリス侵攻を断念させた、英雄ネルソン提督の記念碑が立つ。
- a. ポーツマス              b. マドリード              c. ヨーク                      d. ロンドン
- (59) 「コンコルド広場」は、フランス革命で処刑が行われた広場。エトワール凱旋門へと続くシャンゼリゼ大通りの起点。
- a. オルレアン              b. ジュネーヴ              c. パリ                          d. ブリュッセル
- (60) ハガニア（アガニア）の「ラッテストーン公園」には、古代チャモロ遺跡の石柱が立ち並ぶ。
- a. オアフ島                  b. グアム島                  c. サイパン島                  d. マウイ島



6. 次の祭り・イベントの開催国を、記号で選びなさい。

- (61) 「ホーリー」  
a. インド                      b. タイ                      c. フィリピン                      d. ベトナム
- (62) 「オクトーバーフェスト」 (世界最大のビール祭り)  
a. イタリア                      b. スイス                      c. ドイツ                      d. ポルトガル
- (63) 「ザルツブルク音楽祭」  
a. オーストリア                      b. オランダ                      c. ドイツ                      d. ポーランド
- (64) 「サン・フェルミン祭 (牛追い祭り)」  
a. インド                      b. スペイン                      c. ペルー                      d. ポルトガル
- (65) 「アカデミー賞授賞式」  
a. アメリカ                      b. イタリア                      c. カナダ                      d. フランス

7. 次の説明にあてはまる料理や食べ物、酒を、記号で選びなさい。

- (66) エビなどを食材としたタイの代表的スープ。辛酸っぱさに特徴がある。  
a. サテ                      b. トムヤムクン                      c. ミーゴレン                      d. レチョン
- (67) インドネシア、マレーシア風焼き飯。目玉焼きなどが添え物として付く。  
a. アンティクーチョ                      b. シシケバブ  
c. ナシゴレン                      d. ピラフ
- (68) 牛肉の塊を蒸し焼きにして薄く切り分けた料理。グレイビーソースを付けて食べる。  
a. ガスパチョ                      b. グヤーシュ  
c. ザウアーブラーテン                      d. ローストビーフ
- (69) 薄くした肉にパン粉を付けて揚げたカツレツ。広くドイツ語圏で食べられる。  
a. パエリア                      b. ブイヤベース                      c. ボルシチ                      d. シュニッツェル
- (70) マゲイという種類の竜舌蘭を原料とした蒸留酒。メキシコなどが産地。  
a. ウオッカ                      b. ウヅ                      c. シュナップス                      d. テキーラ

8. 次の国で発行されている通貨の単位を、記号で選びなさい。

(71) 中国

a. ウォン

b. 元

c. チャット

d. ドン

(72) タイ

a. パタカ

b. バーツ

c. リンギット

d. ルピア

(73) インド

a. ドル

b. ペソ

c. ルピー

d. ルーブル

(74) エジプト

a. コルナ

b. ディナール

c. ポリバル

d. ポンド

(75) フランス

a. クローネ

b. フラン

c. ユーロ

d. リラ

## 4

## 写真問題（5問）

1. 写真シートを参照して、その世界遺産の保有国を、記号で選びなさい。

= 写真シート参照（次ページ） =

- (76) 紫禁城  
a. 韓国                      b. 北朝鮮                      c. 中国                      d. ベトナム
- (77) 「インディ・ジョーンズ／最後の聖戦」  
a. ギリシャ                      b. シリア                      c. トルコ                      d. ヨルダン
- (78) 獅身人面像  
a. インド                      b. エジプト                      c. シンガポール                      d. チュニジア
- (79) 聖家族贖罪（しよくざい）教会  
a. イタリア                      b. スペイン                      c. ドイツ                      d. フランス
- (80) ククルカンのピラミッド  
a. イラク                      b. グアテマラ                      c. スーダン                      d. メキシコ

写真シート (世界 初級)

(76)



(77)



(78)



(79)



(80)



